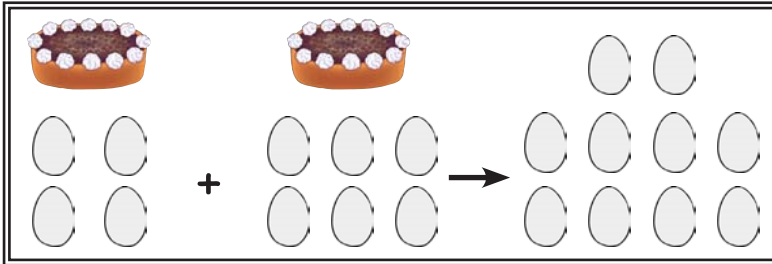


meine Rechengeschichten

Zeichne zu den Textaufgaben die Rechengeschichten.

1 Lisa bäckt 2 Kuchen. Für den einen hat sie 4 Eier gebraucht, für den anderen 6. Wie viele Eier hat sie insgesamt verarbeitet?



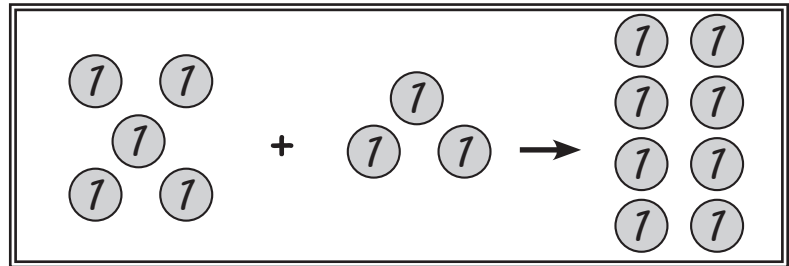
R: $4 + 6 = 10$

A: Sie hat 10 Eier verarbeitet.

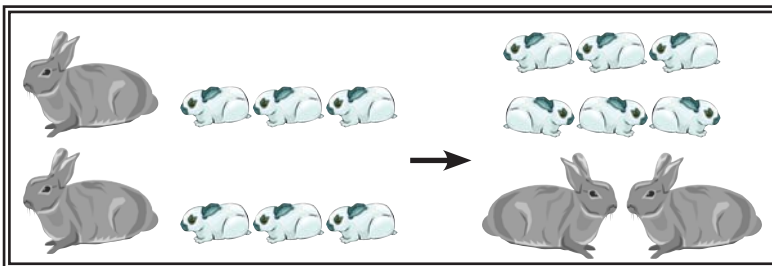
Laura hat 5 €. Von ihrer Tante bekommt sie 3 € geschenkt. Wie viel Geld hat sie nun?

R: $5 + 3 = 8$

A: Sie hat nun 8 €.



3 Felix hat 2 Kaninchen. Jedes bekommt 3 Junge. Wie viele Kaninchen hat Felix jetzt?



R: $2 + 6 = 8$

A: Felix hat jetzt 8 Kaninchen.

Daniel malt 8 Bilder. 3 davon verschenkt er. Wie viele hat er noch?

R: $8 - 3 = 5$

A: Er hat noch 5 Bilder.

