


## Textaufgaben Plus - Zahlenraum 10

Lies die Aufgabe. Füge die Lösung ein.  
Ein Beispiel:

Dies sind 3  .

Sabine pflückt 2 dazu.  
Wie viele sind es insgesamt?

$$\underline{3} + \underline{2} = \underline{5}$$

Dies sind 4  .


Sabine pflückt 2 dazu.  
Wie viele sind es insgesamt?

$$\underline{\quad} + \underline{\quad} = \underline{\quad}$$

Dies sind 6  .


Sabine pflückt 3 dazu.  
Wie viele sind es insgesamt?

$$\underline{\quad} + \underline{\quad} = \underline{\quad}$$

Dies sind 3  .

Sabine pflückt 4 dazu.  
Wie viele sind es insgesamt?

$$\underline{\quad} + \underline{\quad} = \underline{\quad}$$

Dies sind 5  .

Sabine pflückt 2 dazu.  
Wie viele sind es insgesamt?

$$\underline{\quad} + \underline{\quad} = \underline{\quad}$$

Dies sind 8  .

Sabine pflückt 2 dazu.  
Wie viele sind es insgesamt?

$$\underline{\quad} + \underline{\quad} = \underline{\quad}$$

Dies sind 3  .

Sabine pflückt 5 dazu.  
Wie viele sind es insgesamt?

$$\underline{\quad} + \underline{\quad} = \underline{\quad}$$

Dies sind 2  .

Sabine pflückt 2 dazu.  
Wie viele sind es insgesamt?

$$\underline{\quad} + \underline{\quad} = \underline{\quad}$$

Dies sind 7  .

Sabine pflückt 3 dazu.  
Wie viele sind es insgesamt?

$$\underline{\quad} + \underline{\quad} = \underline{\quad}$$