

Unsere Sinne

Unsere 5 Sinne sind:

- _____
- _____
- _____
- _____
- _____

sehen

hören

tasten

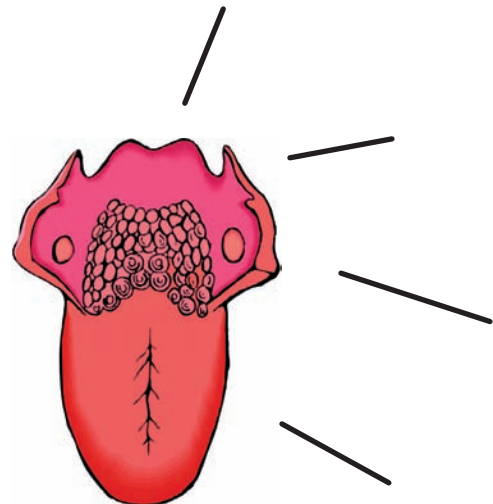
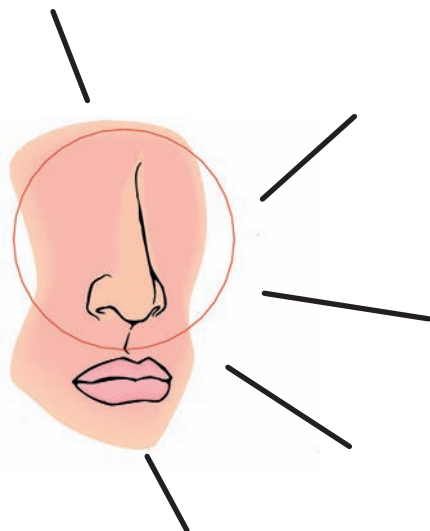


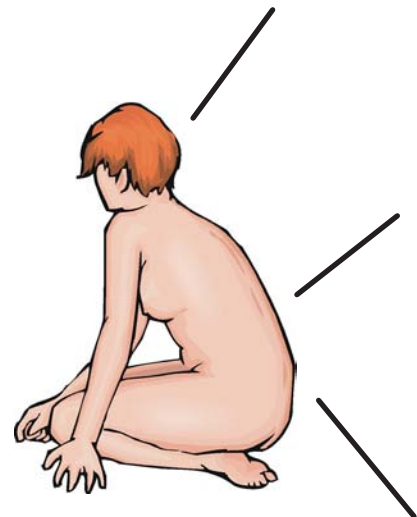
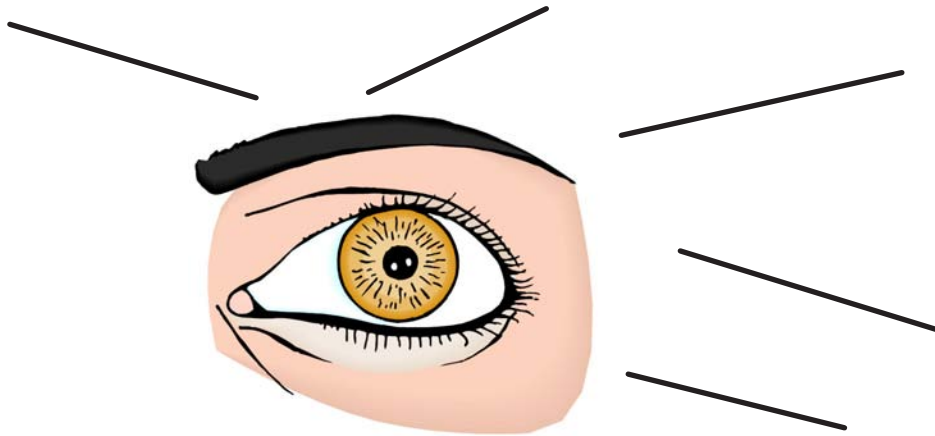
riechen

schmecken

Ordne die Begriffe den richtigen Bildern zu!

Riechschleimhaut	Unterhaut	Wallpapille	Fadenpapille
Ohrmuschel			Riechkolben
Netzhaut	Regenbogenhaut	Höhrnerv	Sehnerv
Nasenbein	Gehörgang	Gaumenmandel	Nasenmuschel
Trommelfell	Zungenmandel	Nasengänge	Lederhaut
Oberhaut	Linse	Amboss - Hammer - Steigbügel	Pupille





Beantworte die Fragen!

Welches ist unser größtes Organ?

In welchem unserer Sinne befinden sich die 3 kleinsten Knochen?

Mit welchem Organ nehmen wir 5 Geschmacksrichtungen wahr?

Nenne die 4 Geschmacksrichtungen!

