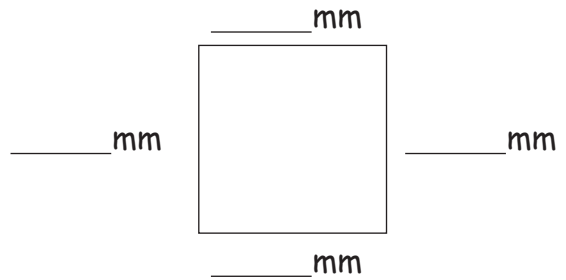
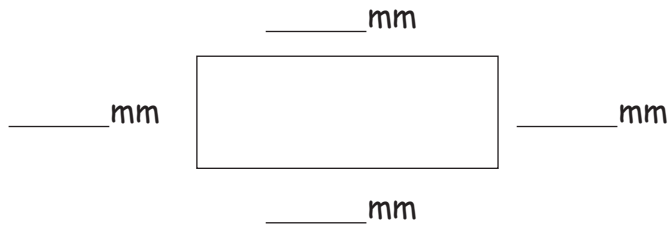


Abmessen von Quadraten



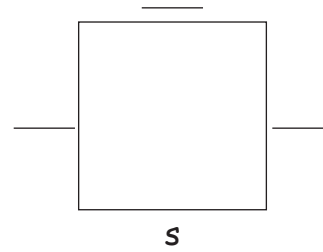
1. Das Quadrat

- a.) Miss die Seiten ab und trage die Länge ein.
- b.) Zeichne die rechten Winkel ein.
- c.) Welches der 2 Vierecke nennt man Quadrat?



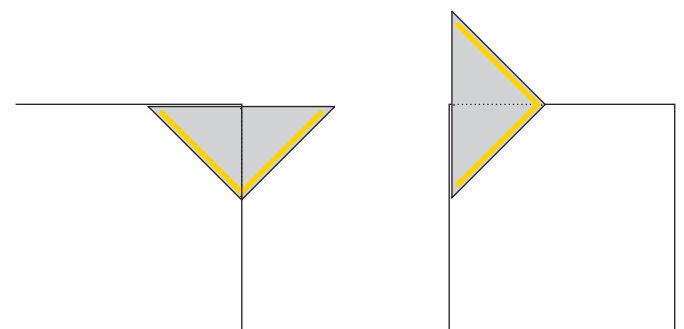

2. Parallele Seiten:

Je zwei Seiten sind zueinander parallel.
Kennzeichne diese mit einem „s“.



**3. Zeichne mit deinem Geo-Dreieck ein Quadrat.
Mach es genau so, wie es hier abgebildet ist!**

Das Dreieck ist verkleinert dargestellt.
 $s = 30 \text{ mm}$



4. Zeichne folgende Quadrate fertig:

