

## Einfache Rechenübungen


Zähle die Formen und schreib dazu, wie viele es sind!



5



6




3



1

Zähle die Tiere und schreib dazu, wie viele es sind!



4



7



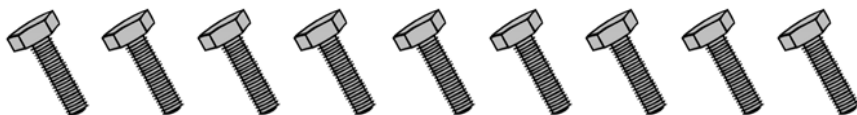
2

Zähle die Gegenstände und schreib dazu, wie viele es sind!



---

2



---

9



---

7



---

4



---

5



---

3



---

1



---

6



---

8