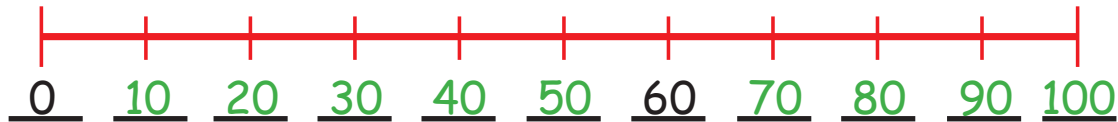


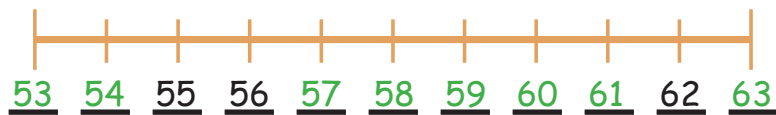
Ergänzen auf dem Zahlenstrahl

1. Ergänze die Zahlen auf dem Zahlenstrahl.

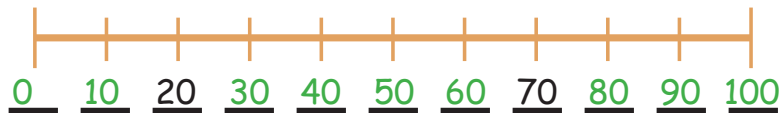


Zählt dieser Zahlenstrahl in Hunderterschritten, Zehnerschritten oder Einerschritten?

A: Er zählt in Zehnerschritten.



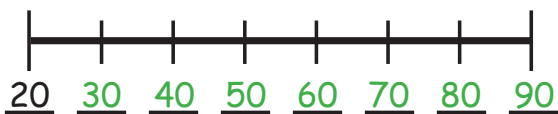
2. Setze die fehlenden Zahlen ein!



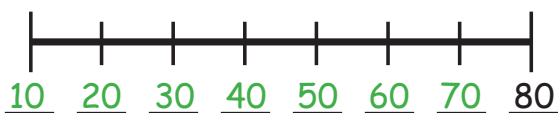
3. Zähle in Einerschritten weiter!



4. Zähle in Einerschritten zurück!



5. Zähle in Zehnerschritten weiter!



6. Zähle in Zehnerschritten zurück!