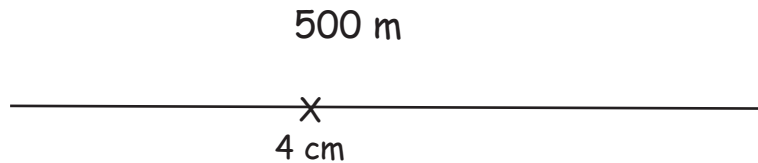



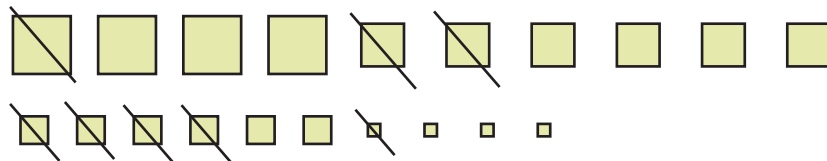
## KOMPETENZCHECK ALLERLEI

**1** Die Eisdielen ist nur 200 m vom Spielplatz entfernt. Zeichne sie an der richtigen Stelle ein!



**2** Welche Subtraktion ist hier grafisch dargestellt? Die Größe der Quadrate entspricht dem angegebenen Wert.

- 1 000
- 100
- 10
- 1



4 664 - 1 241      3 423

**3** Weißt du die richtige Antwort?

Stell dir das Ziffernblatt einer Uhr vor. Es wird mit einem Strich von der Zahl 9 bis zur Zahl 3 und von der Zahl 12 bis zur Zahl 6 geteilt.

Wie viele Bruchteile des Ziffernblattes sind entstanden?

4

Wie heißt 1 solches Bruchteil?

$\frac{1}{4}$



**4** Welche Antwort ist richtig? Schreibe auch den Rechenweg auf!

Das rechteckige Feld des Bauern Schlaumeier ist  $5\,074\text{ m}^2$  groß. Wie lang ist das Grundstück, wenn es  $86\text{ m}$  breit ist?

$5\,074\text{ m}^2 \div 86\text{ m} = 59\text{ m}$

