

















Restgeld berechnen

Stefan hat von seiner Mama 10 Euro bekommen, mit denen er sich etwas kaufen darf.
Wie viel Geld bekommt er jeweils zurück?

Ware	Preis	bezahlt mit	Rückgeld
Kaugummi	2 €		
1 Flasche Limonade	1 €		
Mütze	7 €		
Regenschirm	6 €		
Schokobonbons	3 €		
Federpenal	9 €		
2 Eis	4 €		
Rätselheft	5 €		
Farbstifte	8 €	