


Spiegelungen

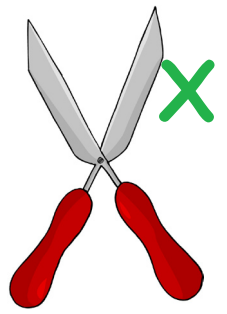
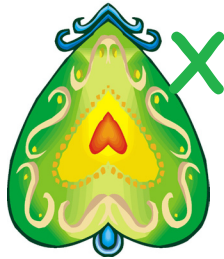
**1. Was wird daraus?**

Was wird aus diesen Faltschnitten?

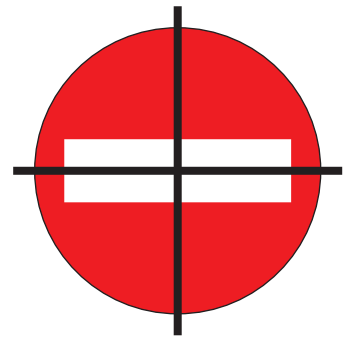
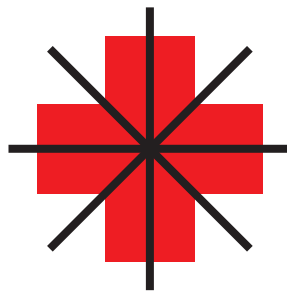


**2. Spiegelgleiche Figuren:**

a.) Welche dieser Figuren sind spiegelgleich?



b.) Zeichne die Spiegelungsachse ein.



c.) Male die andere Seite mit den gleichen Farben an.

