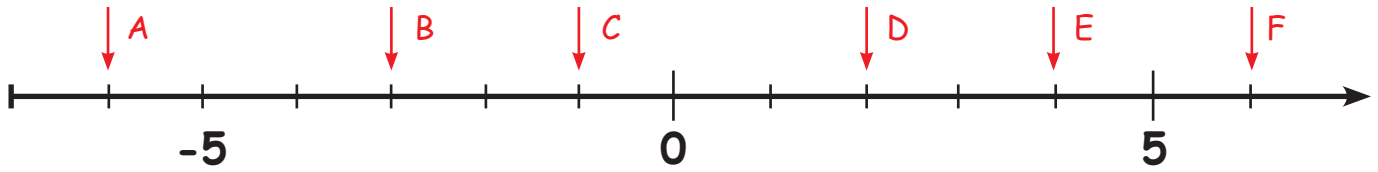


Zahlen auf dem Zahlenstrahl

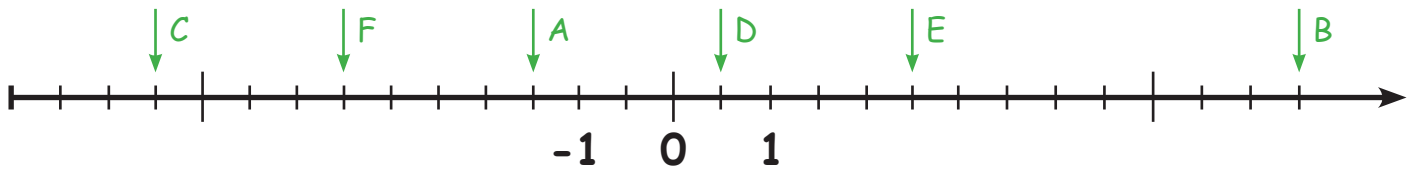


Lies die markierten Zahlen ab und schreibe sie auf die Zeilen!




A	<u> -6 </u>	D	<u> 2 </u>
B	<u> -3 </u>	E	<u> 4 </u>
C	<u> -1 </u>	F	<u> 6 </u>

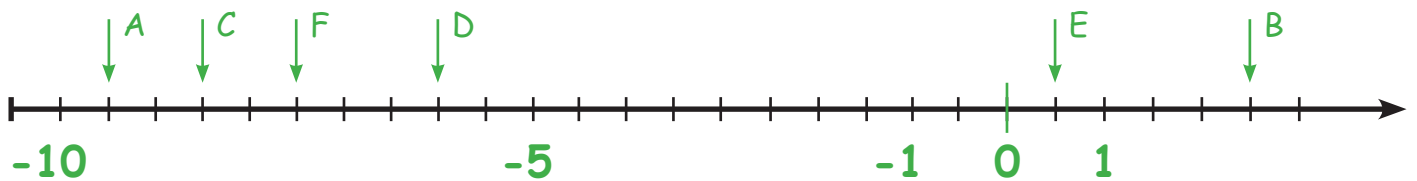
Markiere die vorgegebenen Zahlen auf dem Zahlenstrahl!



A	<u> -1,5 </u>	D	<u> 0,5 </u>
B	<u> 6,5 </u>	E	<u> 2,5 </u>
C	<u> -5,5 </u>	F	<u> -3,5 </u>



Teile den Zahlenstrahl sinnvoll ein und markiere die vorgegebenen Zahlen!



A	<u> -9,5 </u>	C	<u> -8,5 </u>	E	<u> 0,5 </u>
B	<u> 2,5 </u>	D	<u> -6 </u>	F	<u> -7,5 </u>



A	<u> -4 </u>	C	<u> 6 </u>	E	<u> 4 </u>
B	<u> 2 </u>	D	<u> -1 </u>	F	<u> -2 </u>