

# MINI-EINMALEINS

Jeder sieht es ein bisschen anders.

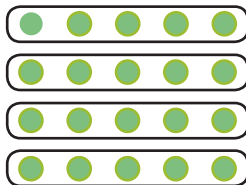


Anna schaut sich die Muffins an und sieht 5 Vierer  
 Jonas sieht 4 mal 5 Muffins und  
 David schaut die Muffins an und erkennt 2 mal 10 Stück.

1.


Schreibe verschiedene Rechnungen auf und kreuze die Punkte danach ein.

Beispiel:




$4 \times 5 = 20$


$5+5+5+5=20$



\_\_\_\_\_




\_\_\_\_\_




\_\_\_\_\_

2.


Probiere auch hier die passende Rechnung zu finden.



\_\_\_\_\_



\_\_\_\_\_



\_\_\_\_\_