












# Plusrechnen - Zahlenraum 10

Male die Blumen gelb und blau an. Zeige verschiedene Wege, um auf die links gezeigte Zahl zu kommen. Schreibe die Rechnung auf. Ein Beispiel:

7		<u>4</u> + <u>3</u>
7		___ + ___
7		___ + ___
7		___ + ___
8		___ + ___
8		___ + ___
8		___ + ___
9		___ + ___
9		___ + ___
10		___ + ___
10		___ + ___