





# Wo bleibt die Zeit?





Schau dir die Uhren an und lies die danebenstehenden Texte. Berechne dann, wie viel Zeit vergangen ist und zeichne die richtigen Uhrzeiten in die Uhren ein.




Um 7 Uhr beginnt Anna zu frühstücken. Dafür braucht sie eine halbe Stunde.



Um halb 9 beginnt für Anna die Schule. Nach 5 Stunden kommt sie wieder nach Hause.



Anna fängt um 3 Uhr mit den Hausaufgaben an. Wenn sie fertig ist, sind 2 Stunden vergangen.



Um 8 geht Anna schlafen. Nach 10 Stunden ist sie wieder munter.

